

INTERMEDIATE EXAMINATION – 2026

इन्टरमीडिएट परीक्षा – 2026

(ANNUAL / वार्षिक)

MODEL QUESTION PAPER

ECONOMICSElective)

अर्थशास्त्र (ऐच्छिक)

I.A. आई०ए

विषय कोड

Subject Code:

326

प्रश्न पुस्तिका सेट
कोड
Question Booklet Set
Code

कुल प्रश्न : 100 + 30 + 8 = 138

Total Questions: 100 + 30 + 8 = 138

(समय : 3 घंटे 15 मिनट)

[Time : 3 Hours 15 Minutes]

कुल मुद्रित पृष्ठ : 40

Total Printed Pages : 40

(पूर्णांक : 100)

[Full Marks : 100]

परीक्षार्थियों के लिए निर्देश / Instructions for the candidates :

- 1- परीक्षार्थी OMR उत्तर पत्रक पर अपना प्रश्न पुस्तिका क्रमांक (10 अंकों का) अवश्य लिखें।

Candidates must enter his / her Question Booklet Serial No. (10 Digits) in the OMR Answer Sheet.

- 2- परीक्षार्थी यथासंभव अपने शब्दों में ही उत्तर दें।

Candidates are required to give their answers in their own words as far as practicable.

- 3- दाहिनी ओर हाशिये पर दिये हुए अंक पूर्णांक निर्दिष्ट करते हैं।

Figures in the right-hand margin indicate full marks.

- 4- प्रश्नों को ध्यान पूर्वक पढ़ने के लिए परीक्षार्थियों को 15 मिनट का अतिरिक्त समय दिया गया है।

15 minutes extra time have been allotted for the candidates to read the questions carefully.

- 5- यह प्रश्न पत्र दो खण्डों में विभक्त है – खण्ड-अ एवं खण्ड-ब।

This question booklet is divided into two sections – Section-A and Section-B.

- 6- खण्ड-अ में 100 वस्तुनिष्ठ प्रश्न हैं, जिनमें से किन्ही 50 प्रश्नों का उत्तर देना अनिवार्य है। 50 प्रश्नों से अधिक का उत्तर देने पर प्रथम 50 का ही मूल्यांकन होगा। प्रत्येक के लिए 1 अंक निर्धारित है। इनका उत्तर देने लिए उपलब्ध कराए गए OMR उत्तर-पत्रक में दिए गए सही विकल्प को नीले/काले

बॉल पेन से प्रगाढ़ करें। किसी भी प्रकार के ह्वाइटनर/ तरल पदार्थ/ ब्लेड/ नाखून आदि का OMR उत्तर पत्रक में प्रयोग करना मना है, अन्यथा परीक्षा परिणाम अमान्य होगा।

In Section – A there are 100 objective type questions, out of which any 50 questions are to be answered. If more than 50 questions are answered, then only first 50 will be evaluated. Each question carries 1 mark. For answering these darken the circle with blue/black ball pen against the correct option on OMR answer sheet provided to you. Do not use whitener/liquid/ blade/ nail etc. on the OMR answer sheet otherwise the result will be treated invalid.

- 7- खण्ड-ब में 30 लघु उत्तरीय प्रश्न हैं। प्रत्येक के लिए 2 अंक निर्धारित हैं, जिनमें से किन्हीं 15 प्रश्नों का उत्तर देना अनिवार्य है। इनके अतिरिक्त इस खण्ड में 8 दीर्घ उत्तरीय प्रश्न दिये गये हैं, प्रत्येक के लिए 5 अंक निर्धारित है, जिनमें से किन्हीं 4 प्रश्नों का उत्तर देना अनिवार्य है।

In Section-B there are 30 short Answer Type Questions. Each carrying 2 marks. Out of which any 15 questions are to be answered. Apart from these, there are 8 Long answer type questions, each carrying 5 marks, out of which any 4 questions are to be answered.

- 8- किसी प्रकार के इलेक्ट्रॉनिक उपकरण का प्रयोग पूर्णतया वर्जित है।

Use of any electronic equipment/device is strictly prohibited.

खण्ड – अ / Section-A

वस्तुनिष्ठ प्रश्न / Objective Type Questions

प्रश्न संख्या 1 से 100 तक के प्रत्येक प्रश्न के साथ चार विकल्प दिये गये हैं, जिनमें से एक सही है। अपने द्वारा चुने गये सही विकल्प को OMR शीट पर चिह्नित करें। केवल 50 प्रश्नों के ही उत्तर दें।

50 x 1 = 50

Question Nos 1 to 100 have four options each, out of which only one is correct, you have to mark your selected option on the OMR sheet. Answer any 50 questions.

50 x 1 = 50

1- एक कप चाय की कीमत किस अर्थशास्त्र की विषय वस्तु है ?

(A) समष्टि अर्थशास्त्र

(B) व्यक्ति अर्थशास्त्र

(C) अंतर्राष्ट्रीय अर्थशास्त्र

(D) इनमें सभी

The price of a cup of tea is the subject matter of which economics?

(A) Macro economics

(B) Micro economics

(C) International economics

(D) All of these

2- बाजार अर्थव्यवस्था में आर्थिक क्रियाकलापों का समन्वय किसके द्वारा होता है ?

(A) सरकार

(B) कीमत तंत्र

(C) बहुराष्ट्रीय कंपनी

(D) इनमें सभी

In the market economy, economic activities are coordinated by?

(A) Government

(B) Price Mechanism

(C) Multinational company

(D) All of these

3- 'आर्थिक विधियाँ हमारे अनुकूल है या नहीं' – इसका विश्लेषण किस अर्थशास्त्र के अंतर्गत होता है?

(A) समष्टि अर्थशास्त्र

(B) व्यक्ति अर्थशास्त्र

(C) गणितीय अर्थशास्त्र

(D) आदर्शक अर्थशास्त्र

‘Are the economics processes favourable to us or not’ under which economics is the analysed?

- (A) Macro economics
- (B) Micro economics
- (C) Mathematical economics
- (D) Normative economics

4- वह व्यवस्था जिसके द्वारा लोग वस्तुओं को खरीदने एवं विक्रय का कार्य करते हैं, क्या कहलाता है ?

- (A) पर्यटन
- (B) व्यापार
- (C) बाजार
- (D) संसार

What is the system by which people buy and sell goods called?

- (A) Tourism
- (B) Business
- (C) Market
- (D) World

5- कीमत संकेतक क्या दर्शाते हैं ?

- (A) वस्तु की सापेक्ष प्रचुरता
- (B) वस्तु की सापेक्ष कमी
- (C) उत्पादन एवं उपभोग में समायोजन की आवश्यकता
- (D) इनमें सभी

What does the price indicator show?

- (A) Relative abundance of good
- (B) Relative scarcity of good
- (C) There is a need for adjustment in production and consumption
- (D) All of these

6- उत्पादन संभावना वक्र की ढाल क्या होती है ?

- (A) धनात्मक
- (B) ऋणात्मक
- (C) शून्य
- (D) असीम

What is the slope of production possibility curve?

- (A) Positive
- (B) Negative
- (C) Zero
- (D) Infinite

7- इनमें से कौन सेवाओं की श्रेणी में आता है ?

- (A) खाद्य पदार्थ
- (B) वस्त्र
- (C) जल
- (D) चिकित्सा

Which of these comes under the category of services?

- (A) Food articles
- (B) clothes
- (C) Water
- (D) Medical treatment

8- 'उपभोग की वस्तुएँ अधिक मात्रा में उत्पादित की जाए या निवेशपरक वस्तुएँ (मशीन आदि)?' यह क्या है ?

- (A) अर्थव्यवस्था की केन्द्रीय समस्या
- (B) उपभोग की समस्या
- (C) लाभ कमाने की समस्या
- (D) इनमें सभी

'Should consumption goods be produced in large quantities or investment goods (Machines etc)?' What is this?

- (A) Central Problem of economy
- (B) Problem of consumption
- (C) Problem of making profit
- (D) All of these

9- आर्थिक समस्याओं के माध्यम से पूरी अर्थव्यवस्था को समझने का प्रयास क्या है ?

- (A) व्यक्ति अर्थशास्त्र
- (B) समष्टि अर्थशास्त्र
- (C) अंतर्राष्ट्रीय व्यापार
- (D) हमारी नादानी

What is an attempt to understand the whole economy through economic aggregates?

- (A) Micro economics
- (B) Macro economics
- (C) International Economics
- (D) Our ignorance

10- 'आर्थिक विधियाँ कैसे कार्य करती हैं' ? इसका अध्ययन किसके द्वारा किया जाता है ?

- (A) सकारात्मक अर्थशास्त्र
- (B) आदर्शक अर्थशास्त्र
- (C) तर्कात्मक विश्लेषण
- (D) इनमें कोई नहीं

'How do economic processes work? – it is studied under which?

- (A) Positive Economics
- (B) Normative economics
- (C) logical analysis
- (D) None of these

11- उन सभी वंडलों (x_1, x_2) का संग्रह जो उपभोक्ता वर्तमान बाजार कीमत पर अपनी आय से खरीद सकता है, क्या कहलाती हैं ?

- (A) बजट सेट
- (B) बजट प्रतिबंध
- (C) मूल्य सेट
- (D) (A) एवं (B) दोनों

What is the collection of all bundles that a consumer can purchased from his income at current market price is called?

- (A) Budget Set
- (B) Budget Constraint
- (C) Price Set
- (D) Both (A) and (B)

12- यदि बजट रेखा $p_1x_1 + p_2x_2 = M$ है तो x - अंतर्खर्द क्या होगा ?

- (A) M/p_2
- (B) M/p_1
- (C) P_1/p_2
- (D) इनमें कोई नहीं

If $p_1x_1 + p_2x_2 = M$ is the budget line, then what will be the x -intercept?

- (A) M/p_2
- (B) M/p_1
- (C) P_1/p_2
- (D) None of these

13- बजट रेखा की ढाल यह बताती है कि उपभोक्ता वस्तु 1 की Δx_1 इकाई छोड़कर वस्तु 2 की कितनी (Δx_2) मात्रा क्रय कर सकना है ? वह मात्रा है –

- (A) P_1/P_2 (B) P_2/P_1
(C) $-P_1/P_2$ (D) $-P_2/P_1$

A budget line indicates how many units of good 2 (Δx_2) the consumer can purchase by giving up (Δx_1) unit of good 1 ? That quantity is -

- (A) P_1/P_2 (B) P_2/P_1
(C) $-P_1/P_2$ (D) $-P_2/P_1$

14- यदि बजट रेखा में वस्तु 1 की कीमत बढ़ती है, तो नए बजट रेखा की ढाल (प्रवणता) में क्या परिवर्तन होगा ?

- (A) बढ़ जायेगी (B) घट जायेगी
(C) कोई परिवर्तन नहीं होगा
(D) वस्तु के मूल्य एवं बजट रेखा में कोई संबंध नहीं है

If the price of commodity 1 in budget line increases then what will be the change in the slope of a new budget line?

- (A) Will increase (B) will decrease
(C) There will be no change
(D) There is no relation between the price of the good and the budget line

15- अनधिमान वक्र पर स्थित बंडलों के प्रति उपभोक्ता –

- (A) पक्षपाती रहता है (B) तटस्थ रहता है
(C) परस्पर विरोधी (D) इनमें कोई नहीं

For bundles lying on an indifference curve the consumer is-

- (A) Biased
- (B) Indifferent
- (C) Inconsistent
- (D) None of these

16- अनधिमान वक्र की ढाल सामान्यतः क्या होती है ?

- (A) ऋणात्मक
- (B) मूल बिंदु की ओर उत्तल
- (C) घटती हुई
- (D) इनमें सभी

What is the slope of indifference curve usually?

- (A) Negative
- (B) Convex to the origin
- (C) Decreasing
- (D) All of these

17- अर्थशास्त्र में साधारणतः उपभोक्ता को कैसा व्यक्ति माना जाता है ?

- (A) बुद्ध
- (B) युक्तिशील
- (C) चालाक
- (D) भ्रातं (विमूढ़)

In economics what type of a person a consumer generally considered to be?

- (A) Fool
- (B) Rational
- (C) Clever
- (D) Confused

18- किसी वस्तु की माँग इनमें से किस अवयव पर निर्भर करती है ?

- (A) वस्तु की कीमत
- (B) उपभोक्ता की आय
- (C) उपभोक्ता की अभिरुचि
- (D) इनमें सभी

The demand for a commodity depends on which of the following factors?

- (A) Price of the commodity
- (B) Income of the consumer
- (C) Taste of the consumer
- (D) All of these

19- माँग वक्र किसके बीच संबंध को दर्शाता है ?

- (A) वस्तु के मूल्य एवं माँग की मात्रा
- (B) उपभोक्ता की आय एवं वस्तु के माँग की मात्रा
- (C) उपभोक्ता की अभिरुचि एवं माँग की मात्रा
- (D) इनमें कोई नहीं

The demand curve shows the relationship between?

- (A) Price of the commodity and quantity demanded
- (B) Consumer's income and quantity demanded
- (C) Consumers's taste and quantity demanded
- (D) None of these

20- इनमें कौन माँग के नियम का उपवाद है ?

- (A) सामान्य वस्तुएँ
- (B) घटिया (निम्नस्तरीय) वस्तुएँ
- (C) गिफेन वस्तुएँ
- (D) इनमें सभी

Which of the following is an exception to the law of demand?

- (A) Normal goods
- (B) Inferior goods
- (C) Giffen goods
- (D) All of these

21- एक रैखिक माँग वक्र की ढाल का सही विवरण क्या है ?

- (A) हर बिंदु पर समान
- (B) सभी बिंदुओं पर अलग-अलग
- (C) कुछ बिंदुओं पर अलग-अलग एवं कुछ बिन्दुओ पर समान
- (D) धनात्मक

What is the correct description of the slope of a linear demand curve?

- (A) Same at every point
- (B) different at all points
- (C) Different at some points and same at some points
- (D) Positive

22- यदि उपभोक्ता की किसी वस्तु के प्रति रुचि घट जाती है, तो माँग वक्र में क्या परिवर्तन होगा?

- (A) बायीं ओर शिफ्ट करेगा
- (B) दायीं ओर शिफ्ट करेगा
- (C) उपर की ओर शिफ्ट करेगा
- (D) शिफ्ट नहीं करेगा

If the consumer's taste for a product declines, what change occurs in the demand curve?

- (A) Will Shift leftward
- (B) Will shift rightward
- (C) Will Shift upward
- (D) Will not Shift

23- अलग-अलग व्यक्तियों के समस्तरीय माँग वक्रों को जोड़ने से क्या प्राप्त होता है ?

- (A) पूर्ति वक्र
- (B) संप्राप्ति वक्र
- (C) लागत वक्र
- (D) बाजार माँग वक्र

What is obtained by adding the horizontal demand curves of different individuals?

- (A) Supply curve
- (B) Revenue Curve
- (C) Cost Curve
- (D) Market Demand Curve

24- इनमें से किस वस्तु के माँग की लोच एक से अधिक ($e_d > 1$) है ?

- (A) खाद्य पदार्थ
- (B) आरमदायक वस्तु
- (C) विलासिता की वस्तुएँ
- (D) इनमें सभी

Which of the following goods has elasticity of demand greater than one ($e_d > 1$)?

- (A) Food Articles
- (B) Comfort goods
- (C) Luxury goods
- (D) All of these

25- इनमें से किस कारक को हम अल्पकाल में नहीं परिवर्तित कर सकते हैं ?

- (A) श्रम
- (B) उर्वरक खाद
- (C) सिंचाई
- (D) मशीन / ट्रैक्टर

Which of the following factors cannot be changed in the short run?

- (A) Labour
- (B) Fertilizers
- (C) Irrigation
- (D) Machine / Tractor

26- $\frac{\Delta q}{\Delta x_1}$, उत्पान फलन $q = f(x_1, \bar{x}_2)$ में किस घटक को परिभाषित करता है ?

- (A) औसत उत्पाद को
- (B) सीमांत उत्पाद को
- (C) कुल उत्पाद को
- (D) इनमें से कोई नहीं

$\frac{\Delta q}{\Delta x_1}$ defines which component of a production function $q = f(x_1, \bar{x}_2)$?

- (A) Average Product
- (B) Marginal Product
- (C) Total Product
- (D) None of these

27- इनमें से किस वक्र का आकार 'उल्टा U' आकृति का होता है ?

- (A) सीमांत उत्पाद
- (B) कुल उत्पाद
- (C) औसत उत्पाद
- (D) (A) एवं (C) दोनों

The shape of which of these curves is that of 'inverted U'?

- (A) Marginal Product
- (B) Total Product
- (C) Average Product
- (D) Only (A) and (C)

28- कुल परिवर्ती लागन (TVC) = ? जहाँ कुल लागत TC एवं कुल स्थिर लागत TFC हो ?

- (A) $TC - TFC$ (B) $TC \div TFC$
(C) $TC + TFC$ (D) $TC \times TFC$

Total variable cost (TVC) = ? where Total cost is TC and total fixed cost is TFC?

- (A) $TC - TFC$ (B) $TC \div TFC$
(C) $TC + TFC$ (D) $TC \times TFC$

29- यदि उत्पादन फलन में कारकों की मात्रा में t गुणा वृद्धि करने पर निर्गत में t गुणा वृद्धि होती है तो इस परिणाम को क्या नाम देंगे ?

- (A) पैमाने का घटता प्रतिफल (B) वर्धमान पैमाने का प्रतिफल
(C) स्थिर पैमाने का प्रतिफल (D) इनमें कोई नहीं

If the output increases t times when the quantity of factors in the production function is increased 't' times, then what would this result be called?

- (A) Decreasing returns to scale (B) Increasing returns to scale
(C) Constant returns to scale (D) None of these

30- औसत स्थिर लागत वक्र का क्या आकार होता है ?

- (A) उल्टा S (B) समस्तरीय रेखा
(C) u आकार (D) आयताकार अतिपरवलय

What is the shape of average fixed cost curve?

- (A) Inverted S (B) Horizontal straight line
(C) U shaped (D) Rectangular Hyperbola

31- इनमें कौन अल्पकालीन वक्र 'U आकार' का नहीं होता है ?

- (A) सीमांत लागत वक्र
- (B) औसत लागत वक्र
- (C) औसत स्थिर लागत वक्र
- (D) केवल (A) एवं (B)

Which of these short run curves not 'U Shaped'?

- (A) Marginal cost curve
- (B) Average cost curve
- (C) Average fixed cost curve
- (D) Only (A) and (B)

32- औसत लागत वक्र किसका योग है ?

- (A) औसत स्थिर लागत
- (B) औसत परिवर्ती लागत
- (C) सीमांत लागत
- (D) केवल (A) एवं (B)

The average cost curve is the sum of what?

- (A) Average fixed cost
- (B) Average variable cost
- (C) Marginal cost
- (D) Only (A) and (B)

33- इनमें कौन वक्र 'उल्टे U' आकार का नहीं होता है ?

- (A) सीमांत उत्पाद वक्र
- (B) औसत उत्पाद वक्र
- (C) कुल उत्पाद वक्र
- (D) इनमें सभी

Which of the following is not shaped as 'Inverted U'?

- (A) Marginal Product Curve
- (B) Average Product Curve
- (C) Total Product Curve
- (D) All of these

34- यदि $f(tx_1, tx_2) > t.f(x_1, x_2)$ तो यह किस पैमाने के प्रतिफल को दर्शाता है ? (यहाँ $t > 1$)

- (A) वर्धमान
- (B) स्थिर
- (C) ह्रासमान
- (D) इनमें कोई नहीं

If $f(tx_1, tx_2) > t \cdot f(x_1, x_2)$, then which returns to scale does it depict? (Here $t > 1$)

- (A) Increasing (B) Constant
(C) Decreasing (D) None of these

35- अल्पकालीन सीमांत लागत की सही परिभाषा है –

- (A) $\Delta \text{कुल लागत} / \Delta q$ (B) कुल लागत / q
(C) $(q_1 \text{ पर कुल लागत}) - (q_1 - 1 \text{ पर कुल लागत})$ (D) (A) एवं (C) दोनों

The correct definition of short run marginal cost is?

- (A) $\Delta \text{Total cost} / \Delta q$ (B) Total cost / q
(C) (Total cost at q_1) – (Total cost at $q_1 - 1$) (D) Only (A) and (C)

36- किस बाजार में अनेक फर्म होती है ?

- (A) पूर्ण प्रतिस्पर्धा (B) एकाधिकार
(C) अल्पाधिकार (D) इनमें सभी

In which market there are many firms?

- (A) Perfect competition (B) Monopoly
(C) Oligopoly (D) All of these

37- औसत संप्राप्ति = सीमान्त संप्राप्ति = ?

- (A) q (B) $p \times q$
(C) $p \div q$ (D) p

Average revenue = Marginal Revenue = ?

- (A) q (B) $p \times q$
(C) $p \div q$ (D) p

38- किसी भी फर्म के लाभ अधिकतमीकरण के लिए आवश्यक शर्त क्या है ?

- (A) सीमांत लागत = सीमांत आगम (B) सीमांत लागत = बाजार कीमत
(C) औसत लागत = औसत आगम (D) केवल (A) और (B)

What is the necessary condition for maximisation of profit of any firm?

- (A) Marginal Cost = Marginal Revenue (B) Marginal Cost = Market Price
(C) Average Cost = Average Revenue (D) Only (A) and (B)

39- यदि पूर्ण प्रतियोगिता बाजार में कीमत किसी फर्म के औसत परिवर्ती लागत के न्यूनतम बिन्दु से कम हो जाए तो क्या होगा?

- (A) फर्म उत्पादन जारी रखेगी (B) फर्म उत्पादन बंद करेगी
(C) फर्म को उत्पादन करने से घाटा होगा (D) केवल (B) और (C)

What will happen if the price in a perfectly competitive market falls below the minimum point of the average variable cost of the firm?

- (A) The Firm will continue production. (B) The Firm will stop production.
(C) The Firm will incur loss by producing. (D) Only (B) and (C)

40- सामान्य लाभ की सही परिभाषा क्या है?

- (A) यह आगतों का अवसर लागत है। (B) यह फर्म का न्यूनतम अपेक्षित लाभ है।
(C) यह कुल लागत की गणना में शामिल होता है।
(D) इनमें सभी

What is the correct definition of normal profit?

- (A) It is the opportunity cost of inputs (B) It is minimum expected profit of the firm
(C) This is included in the calculation of total cost
(D) All of the these

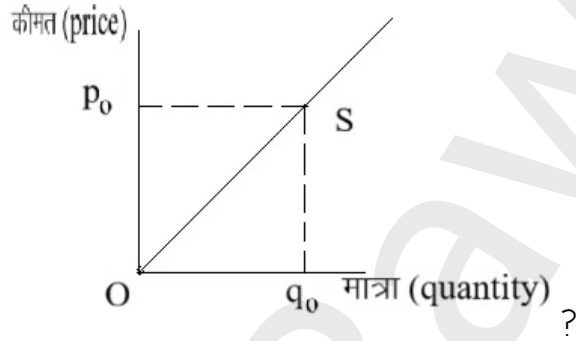
41- प्रौद्योगिकीय प्रगति से फर्म का पूर्ति वक्र किस ओर गमन करता है ?

- (A) दाहिनी ओर (B) नीचे की ओर
(C) बायीं ओर (D) केवल (A) और (B)

In which direction does the supply curve of a firm shift due to technological progress?

- (A) Rightward (B) Downward
(C) Leftward (D) Only (A) and (B)

42-



S बिन्दु पर पूर्ति वक्र की कीमत लोच (e_s) का मान क्या है?

- (A) $e_s = 0$ (B) $e_s = 1$
(C) $e_s < 1$ (D) $e_s > 1$

What will be the value of price elasticity of supply (e_s) of the supply curve point S?

- (A) $e_s = 0$ (B) $e_s = 1$
(C) $e_s < 1$ (D) $e_s > 1$

43- इसमें से किस बाजार की फर्म कीमत स्वीकारक होती है?

- (A) एकाधिकार (B) अल्पाधिकार
(C) पूर्ण प्रतिस्पर्धा (D) एकाधिकारी प्रतियोगिता

In which of the following markets is a firm a price taker?

- (A) Monopoly
- (B) Oligopoly
- (C) Perfect competition
- (D) Monopolistic competition

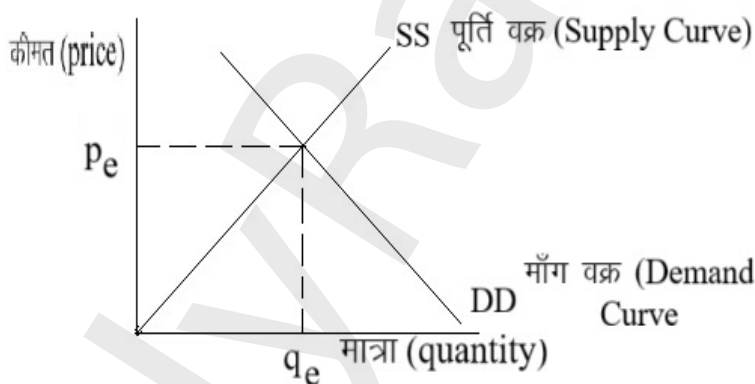
44- पूर्ण प्रतिस्पर्धी बाजार में किस शक्ति द्वारा असंतुलन दूर किया जाता है?

- (A) सरकार
- (B) 'दृश्य हाथ'
- (C) 'अदृश्य हाथ'
- (D) बाजार तंत्र

In a perfectly competitive market, which forces remove disequilibrium?

- (A) Government
- (B) Visible hand
- (C) Invisible hand
- (D) Market mechanism

45-



अधिमाँग की स्थिति में बाजार मूल्य (p_m) और संतुलन की कीमत (p_e) के बीच क्या संबंध होगा?

- (A) $p_e > p_m$
- (B) $p_m = p_e$
- (C) $p_m > p_e$
- (D) $p_m \leq p_e$

What will be the relation between market price (p_m) equilibrium price(p_e) in case of excess demand?

- (A) $p_e > p_m$ (B) $p_m = p_e$
(C) $p_m > p_e$ (D) $p_m \leq p_e$

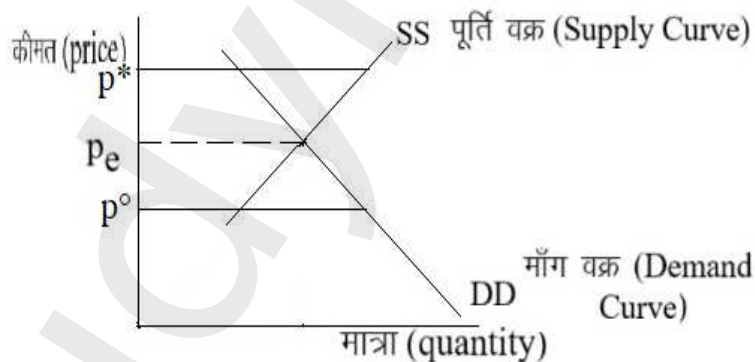
46- यदि माँग वक्र बायीं ओर शिफ्ट करता है और पूर्ति वक्र भी बायीं ओर शिफ्ट करता है तो संतुलन मात्रा में क्या परिवर्तन होगा ?

- (A) कमी आयेगी (B) वृद्धि होगी
(C) अपरिवर्तित रहेगा (D) इनमें कोई भी

If the demand curve shifts leftward and the supply curve also shifts leftward, what will be the change in equilibrium quantity?

- (A) It will decrease (B) It will increase
(C) Will remain unchanged (D) None of these

47-



इनमें कौन निम्नतम निर्धारित मूल्य है ? (चित्र देखें)

- (A) p^* (B) p_e
(C) p^o (D) इनमें कोई नहीं

Which of there is the Minimum Support price?

- (A) p^*
- (B) p_e
- (C) p^o
- (D) None of these

48- यदि बाजार में गेहूँ का संतुलन मूल्य (p_e) है और उच्चतम निर्धारित कीमत p_{max} तो राशन की दुकानों में बेचे जाने वाले गेहूँ का मूल्य होगा ?

- (A) $p_{max} > p_e$
- (B) $p_{max} < p_e$
- (C) $p_{max} = p_e$
- (D) $p_{max} \geq p_e$

If the equilibrium price of wheat in the market is p_e and the price ceiling is p_{max} then what will be the price of wheat sold in the ration shop?

- (A) $p_{max} > p_e$
- (B) $p_{max} < p_e$
- (C) $p_{max} = p_e$
- (D) $p_{max} \geq p_e$

49- इनमें से कौन एकाधिकार बाजार की आवश्यक शर्त है?

- (A) एकल उत्पादक
- (B) वस्तु का निकट स्थानापन्न वस्तु न हो
- (C) अन्य फर्म का बाजार में प्रवेश पर प्रतिबंध
- (D) इनमें सभी

which of the following a necessary condition of a monopoly market?

- (A) Single Producer
- (B) Absence of near substitute for the good
- (C) Restriction on entry of other firms into the market
- (D) All of these

50- एकाधिकार बाजार में औसत संप्रार्प्ति (AR) एवं सीमान्त संप्रार्प्ति(MR) के बीच क्या संबंध होता है?

- (A) $AR = MR$
- (B) $AR < MR$

(C) $AR > MR$

(D) $AR - MR > 0$

What is the relationship between average revenue (AR) and Marginal Revenue (MR) in a Monopoly Market?

(A) $AR = MR$

(B) $AR < MR$

(C) $AR > MR$

(D) $AR - MR > 0$

51- मुद्रा स्फीति किस अर्थशास्त्र की विषय वस्तु है?

(A) राष्ट्रीय आय अर्थशास्त्र

(B) अंतरराष्ट्रीय अर्थशास्त्र

(C) व्यक्ति अर्थशास्त्र

(D) समष्टि अर्थशास्त्र

Inflation is the subject matter of which economics?

(A) National income Economics

(B) International Economics

(C) Microeconomics

(D) Macroeconomics

52- किसी अर्थव्यवस्था के विभिन्न उत्पादन इकाइयों के कुल उत्पादन, कीमत स्तर एवं रोजगार के स्तर के बीच कैसा संबंध होता है?

(A) निकट

(B) दूर का

(C) निरपेक्ष

(D) सब असंबद्ध है

What is the relationship between the total output, price level and employment level of different production units of the economy?

(A) Close

(B) Distant

(C) Absolute

(D) Everything is disconnected

53- समष्टि अर्थशास्त्र में निर्णयकर्ता क्या करने का प्रयास करता है?

(A) आर्थिक संसाधनों का परिनियोजन

(B) सार्वजनिक आवश्यकताओं की पूर्ति

(C) जनता का कल्याण

(D) इनमें सभी

What does a decisionmaker try to do in macroeconomics?

- (A) Deployment of economic resources
- (B) Fulfilment of public needs
- (C) Public Welfare
- (D) All of these

54- महामंदी के दौरान 1929 से 1933 के बीच अमेरिका में बेरोजगारी दर 3 प्रतिशत से बढ़कर कितनी प्रतिशत हो गई थी ?

- (A) 6%
- (B) 12%
- (C) 25%
- (D) 33%

During the great depression between 1929 and 1933, the unemployment rate in the United States of America increased from 3% to what percent?

- (A) 6%
- (B) 12%
- (C) 25%
- (D) 33%

55- इनमें कौन संसाधन बाजार की अनिश्चितता (जोखिम) का सामना करता है?

- (A) भूमि मालिक
- (B) पूँजीपति
- (C) श्रम
- (D) उद्यमी

Who among the following faces uncertainty (risk) in the resource markets?

- (A) Land owner
- (B) Capitalist
- (C) Labour
- (D) Entrepreneur

56- पूँजी निवेश किस क्षेत्र का कार्य है?

- (A) सरकारी क्षेत्र
- (B) उत्पादन क्षेत्र
- (C) बाह्य क्षेत्र
- (D) (B) एवं (C) दोनों

Capital investment is a function of which sector?

- (A) Government Sector
- (B) Production sector
- (C) External sector
- (D) Both (B) and (C)

57- टैरिफ (तटकर) इनमें से किस पर लगाया जाता है?

- (A) निर्यात पर
- (B) पूँजी निवेश पर
- (C) आयात पर
- (D) महंगाई पर

Tariff (customs duty) is levied on which of the following?

- (A) On export
- (B) On Capital investment
- (C) On Import
- (D) On Inflation

58- भारत कैसी अर्थव्यवस्था है?

- (A) बंद
- (B) खुली
- (C) विदेशी निवेश के लिए बंद
- (D) संरक्षित

what kind of economy is India?

- (A) Closed
- (B) Open
- (C) Closed for foreign investment
- (D) Protected

59- श्रम का क्रय विक्रय जिस दर पर किया जाता है उसे क्या कहते हैं?

- (A) ब्याज दर
- (B) मजदूरी की दर
- (C) लाभ का दर
- (D) लगान की दर

What is the rate at which labour is bought and sold called?

- (A) Rate of Interest
- (B) Wage Rate
- (C) Rate of Profit
- (D) Rate of Rent

60- परिवार (एकल व्यक्तिगत उपभोक्ता) कौन-कौन से आर्थिक निर्णय लेता है?

- | | |
|-----------------|---------------|
| (A) उपभोग | (B) बचत |
| (C) कर अदा करने | (D) इनमें सभी |

What economic decisions does the household (A single individual consumer) make?

- | | |
|------------------|------------------|
| (A) Consumption | (B) Saving |
| (C) to pay taxes | (D) All of these |

61- इनमें कौन टिकाऊ उपभोक्ता वस्तु है?

- | | |
|-----------|-----------|
| (A) रोटी | (B) मक्खन |
| (C) भींडी | (D) फ्रिज |

Which of the following is durable consumer good?

- | | |
|----------------|------------|
| (A) Roti | (B) Butter |
| (C) Ladyfinger | (D) Fridge |

62- उपहारस्वरूप प्रकृति से प्राप्त संपदा क्या कहलाती है?

- | | |
|----------|----------|
| (A) जंगल | (B) खेत |
| (C) नदी | (D) भूमि |

What is the wealth received as gift from the nature is called?

- | | |
|------------|----------|
| (A) Forest | (B) Farm |
| (C) River | (D) Land |

63- ऐसी वस्तुएँ जिनका अंतिम उपयोग उपभोक्ता द्वारा किया जाता है क्या कहलाती है?

- (A) मध्यवर्ती वस्तुएँ
- (B) कच्चा माल
- (C) अंतिम वस्तुएँ
- (D) इनमें सभी

What are those goods which are ultimately consumed by the consumer called?

- (A) Intermediate Goods
- (B) Raw material
- (C) Final Goods
- (D) All of these

64- आहार, वस्त्र तथा मनोरंजन सेवाएँ जिनका उपभोक्ता द्वारा क्रय किया जाता है, उन्हें क्या कहते हैं ?

- (A) पूँजीगत वस्तुएँ
- (B) मध्यवर्ती वस्तुएँ
- (C) उपभोग वस्तुएँ
- (D) इनमें से कोई नहीं

What is the food, clothing and entertainment services that are purchased by consumers, called?

- (A) Capital goods
- (B) Intermediate goods
- (C) Consumer goods
- (D) None of these

65- इस्पात के चादर का मोटर गाड़ी बनाने या बर्तन बनाने में उपयोग किस रूप में किया जाता है ?

- (A) पूँजीगत वस्तु के रूप में
- (B) उपभोग वस्तु के रूप में
- (C) अंतिम वस्तु के रूप में
- (D) मध्यवर्ती वस्तु के रूप में

In what form are steel sheets used for making. motor vehicles or utensils?

- (A) In the form of Capital goods
- (B) In the form of consumption goods
- (C) In the form of final goods
- (D) In the form of Intermediate goods

66- एक तीन क्षेत्रीय अर्थव्यवस्था में कारक सेवाएँ किस क्षेत्र द्वारा प्रदान किया जाता है ?

- (A) फर्मों द्वारा
- (B) सरकार द्वारा
- (C) परिवार द्वारा
- (D) इनमें से कोई नहीं

In three sector economy, the factor services is provided by which sector?

- (A) By Firms
- (B) By Government
- (C) By Household
- (D) None of these

67- अर्थव्यवस्था में उत्पादन प्रक्रम से क्या-क्या सृजित होता है ?

- (A) उपभोक्ता वस्तुओं एवं सेवाओं का
- (B) कारक आय-लाभ, मजदूरी इत्यादि।
- (C) पूँजीगत वस्तुओं का
- (D) इनमें सभी

What is produced by production process in the economy?

- (A) Consumer goods and services
- (B) Factor income- Profit, wages etc
- (C) Capital goods
- (D) All of these

68- उद्यमवृत्ति के योगदान का पारिश्रमिक क्या कहलाता है ?

- (A) लगान
- (B) ब्याज
- (C) मजदूरी
- (D) लाभ

What is the remuneration for entrepreneurial contribution called?

- (A) Rent
- (B) Interest
- (C) Wages
- (D) Profit

69- इनमें से किस निवेश से केवल अतिरिक्त नई मशीन का सृजन होता है ?

- (A) सकल निवेश
- (B) मूल्य ह्रास
- (C) निवल निवेश
- (D) इनमें से कोई नहीं

Which of the following investments creates only additional new machine?

- (A) Gross Investment
- (B) Depreciation
- (C) Net Investment
- (D) None of these

70- मूल्यहास के विषय में क्या सही है ?

- (A) यह प्रतिस्थापन व्यय है
- (B) यह लेखांकन संकल्पना है
- (C) यह वास्तविक प्रतिस्थापना व्यय का प्रवाह है
- (D) इनमें सभी

What is true about depreciation?

- (A) It is replacement expense
- (B) It is an accounting concept
- (C) It is flow of actual replacement expenditure
- (D) All of these

71- यदि उत्पादन विधि(A), आय विधि(B) एवं व्यय विधि(C) से किसी देश के उत्पादन का मूल्यांकन किया जाए तो इनमें कौन सही है ?

- (A) $A > B > C$
- (B) $A < B < C$
- (C) $A = B = C$
- (D) $A < B > C$

If the production of a country is evaluated by the production method (A), income method (B) and expenditure method (C), then which of these is correct?

- (A) $A > B > C$
- (B) $A < B < C$
- (C) $A = B = C$
- (D) $A < B > C$

72- इनमें कौन व्यय विधि द्वारा सकल घरेलू उत्पाद(GDP) गणना का घटक नहीं है ?

- (A) उपभोग
- (B) निवेश
- (C) निवल निर्यात
- (D) मजदूरी

Which of the of the following is not a component of Groos National Product(GDP) calculation by expenditure method?

- (A) Consumption (B) Investment
(C) Net Export (D) Wages

73-आय विधि द्वारा सकल घरेलू उत्पाद की सही गणना है –

	—	फर्म A	—	फर्म B
मजदूरी	—	20	—	60
लाभ	—	30	—	90

- (A) 50 (B) 150
(C) 120 (D) 200

The correct calculation of GDP by income method is -

	-	Firm A	-	Firm B
Wages	-	20	-	60
Profit	-	30	-	90

- (A) 50 (B) 150
(C) 120 (D) 200

74-साधन लागत पर सकल घरेलू उत्पाद (GDP) में से बाजार कीमत पर GDP की अपेक्षा क्या घटाया जाता है ?

- (A) मूल्य ह्रास (B) अप्रत्यक्ष कर
(C) निवल अप्रत्यक्ष कर (D) उपदान

What is subtracted from Gross Domestic Product(GDP) at factor cost as compared to GDP at market price?

- (A) Depreciation (B) Indirect Tax
(C) Net Indirect Tax (D) Subsidies

75- यदि मौद्रिक सकल घरेलू उत्पाद GDP है और वास्तविक सकल घरेलू उत्पाद gdp है तो सकल घरेलू उत्पाद अवस्फीति क्या होगा ?

- (A) $\frac{GDP}{gdp}$ (B) $\frac{GDP}{gdp} \times 100$
(C) $\frac{gdp}{GDP}$ (D) (A) एवं (B) दोनों

If monetary gross domestic product is GDP and the real gross domestic product is gdp then what would be the gross domestic product deflator?

- (A) $\frac{GDP}{gdp}$ (B) $\frac{GDP}{gdp} \times 100$
(C) $\frac{gdp}{GDP}$ (D) Both (A) and (B)

76- भविष्य के लिए धन संचय का कार्य किस रूप में होता है ?

- (A) सोना (B) संपत्ति
(C) बंध पत्र (D) मुद्रा

In what form does accumulation of wealth for future takes place?

- (A) Gold (B) Assets
(C) Bonds (D) Money

77- इनमें कौन मुद्रा का कार्य नहीं है ?

- (A) लेखा की इकाई (B) विनिमय का माध्यम
(C) मुद्रास्फीति मापना (D) मूल्य संचय

Which the following is not a function of money?

- (A) Unit of Account (B) Medium of Exchange
(C) Measure inflation (D) Store of Value

78-संव्यवहार के लिए मुद्रा की माँग किस पर निर्भर करती है ?

- (A) संव्यवहार के मूल्य पर
- (B) ब्याज की दर पर
- (C) लोगों की भुगतान आदतें
- (D) इनमें सभी

On what does the demand for money for transactions depend?

- (A) On the value of transaction
- (B) On the rate of interest
- (C) People's payment habits
- (D) All of these

79-बैंक जमाकर्ताओं का पैसा वापस करने के लिए क्या उपाय करता है ?

- (A) जमा कोषों का एक भाग जमाकर्ताओं का पैसा वापस करने में उपयोग करता है
- (B) ऋण लेता है
- (C) रिजर्व बैंक से प्राप्त करता है
- (D) इनमें से कोई नहीं

What measures does the bank take to return the depositor's money?

- (A) A portion of the deposited fund is used to pay back the money to depositor.
- (B) Takes loan
- (C) Receives from the Reserve Bank
- (D) None of these

80-बैंक अधिक धन वाले(बचत वाले) से धन प्राप्त कर जिनको धन की आवश्यकता है(ऋण लेने वाले) के बीच कौन सी भूमिका निभाता है ?

- (A) मध्यस्थ की
- (B) सूदखोर की
- (C) व्यवसायी की
- (D) इनमें से सभी

What role does a Bank play between people who have a lot of money(savers), and those who need money (the borrowers)?

- (A) of Intermediary
- (B) of Usurer
- (C) of Businessman
- (D) All of these

81- बैंक के लिए कोष + ऋण क्या कहलाता है ?

- (A) नेटवर्थ (B) देनदारियाँ
(C) जमाएँ (D) आस्तियाँ

What is Reserves & Loan called for bank?

- (A) Net Worth (B) Liabilities
(C) Deposits (D) Assets

82- करेंसी + माँग जमाएँ = ?

- (A) M_4 (B) M_3
(C) M_2 (D) M_1

Currency + Demand Deposits = ?

- (A) M_4 (B) M_3
(C) M_2 (D) M_1

83- सीमा अनिवार्यता क्या है ?

- (A) साख नियंत्रण का मौद्रिक उपाय (B) ऋण देने की सीमा
(C) साख नियंत्रण का गुणात्मक उपाय (D) इनमें सभी

What is margin requirement?

- (A) Monetary measure of credit control (B) Limit for giving loan
(C) Qualitative measure of credit control (D) All of these

84- समीकरण $M_T^d = kT$ में k क्या है ?

- (A) $\frac{I}{V}$
(B) मुद्रा का वह स्टॉक जो किसी एक समय लोग रखना चाहते हैं
(C) धनात्मक स्थिरांक (D) इनमें सभी

What is k in the equation $M_T^d = kT$?

(A) $\frac{I}{V}$

(B) The stock of money that people wish to hold at any given time

(C) Positive constant

(D) All of these

85- न्यूनतम ब्याज दर r_{min} पर सट्टा के लिए मुद्रा की माँग क्या हो जाती है ?

(A) बढ़ जाती है

(B) शून्य हो जाती है

(C) न्यूनतम हो जाती है

(D) असीम होती है

What becomes of the speculative demand for money at the minimum interest rate r_{min} ?

(A) Increases

(B) Becomes zero

(C) Becomes Minimum

(D) Becomes Infinite

86- विमुद्रीकरण किस वर्ष हुआ था ?

(A) 2025

(B) 2020

(C) 2019

(D) 2016

In which year demonetization take place?

(A) 2025

(B) 2020

(C) 2019

(D) 2016

87- उपभोग फलन $C = \bar{C} + cY$ में प्रेरित उपभोग कौन है ?

(A) C

(B) \bar{C}

(C) cY

(D) इनमें से कोई नहीं

What is induced consumption in consumption function $C = \bar{C} + cY$?

- (A) C (B) \bar{C}
(C) cY (D) None of these

88- सीमान्त उपभोग प्रवृत्ति की सही परिभाषा क्या है ?

- (A) $\frac{\Delta \bar{C}}{\Delta Y}$ (B) $\frac{\Delta C}{\Delta Y}$
(C) $\frac{\Delta Y}{\Delta C}$ (D) $\frac{\Delta Y}{\Delta \bar{C}}$

What is the correct definition of marginal propensity to consume?

- (A) $\frac{\Delta \bar{C}}{\Delta Y}$ (B) $\frac{\Delta C}{\Delta Y}$
(C) $\frac{\Delta Y}{\Delta C}$ (D) $\frac{\Delta Y}{\Delta \bar{C}}$

89- यदि I (निवेश) \bar{I} (स्थिरांक) है और C (उपभोग) $\bar{C} + cY$ है, तो प्रत्याशित समस्त माँग क्या होगी?

- (A) $C + I$ (B) $\bar{I} + \bar{C} + cY$
(C) $\bar{A} + cY$ जहाँ $\bar{A} = \bar{C} + \bar{I}$ (D) इनमें से सभी

If (investment) I is a (constant) \bar{I} and C (consumption) is $\bar{C} + cY$, then what will be the aggregate demand?

- (A) $C + I$ (B) $\bar{I} + \bar{C} + cY$
(C) $\bar{A} + cY$ where $\bar{A} = \bar{C} + \bar{I}$ (D) All of these

90- सीमान्त बचत प्रवृत्ति की सही परिभाषा क्या है ?

- (A) $\frac{\Delta S}{\Delta Y}$ (B) $\frac{\Delta c}{\Delta Y}$
(C) $\frac{S}{Y}$ (D) इनमें सभी

What is the correct definition of marginal propensity to save?

- (A) $\frac{\Delta S}{\Delta Y}$ (B) $\frac{\Delta C}{\Delta Y}$
(C) $\frac{S}{Y}$ (D) All of these

91- स्वायत्त व्यय गुणक का मान क्या होता है ?

- (A) $\frac{1}{1-MPC}$ (B) $\frac{1}{MPS}$
(C) $\frac{1}{MPC}$ (D) केवल (A) एवं (B)

What is the value of autonomous expenditure multiplier?

- (A) $\frac{1}{1-MPC}$ (B) $\frac{1}{MPS}$
(C) $\frac{1}{MPC}$ (D) Only (A) and (B)

92- निम्नलिखित में से कौन सार्वजनिक वस्तु नहीं है ?

- (A) सड़के (B) राष्ट्रीय सुरक्षा
(C) सरकारी स्वास्थ्य सेवा (D) कार (गाड़ी)

Which of the following is not a public good?

- (A) Roads (B) National Defence
(C) Government health services (D) Car (Private Car)

93- निजी वस्तुओं की तरह सार्वजनिक वस्तुएँ क्या होती हैं ?

- (A) प्रतिद्वन्दात्मक (B) प्रतिद्वन्दात्मक नहीं होती हैं
(C) गैर अपवर्जनीय (D) (B) एवं (C) दोनों

What are public goods like private goods?

- (A) Competitive
- (B) Non-Rivalry
- (C) Non-Excludability
- (D) Both (B) and (C)

94- इनमें कौन राजस्व व्यय है ?

- (A) विविध सेवा
- (B) ऋण ब्याज अदायगी
- (C) राज्य सरकारों को दिया गया अनुदान
- (D) इनमें सभी

Which of these is revenue expenditure?

- (A) Miscellaneous service
- (B) Interest payment on loan
- (C) Grants given to State governments
- (D) All of these

95- सकल राजकोषीय घाटा का वित्त पोषण कैसे किया जाना है ?

- (A) निवल घरेलू ऋण ग्रहण कर
- (B) भारतीय रिजर्व बैंक से ऋण ग्रहण कर
- (C) विदेशों से ऋण ग्रहण कर
- (D) इनमें सभी

How is the gross fiscal deficit financed?

- (A) By acquiring net domestic debt
- (B) By acquiring loan from Reserve Bank of India
- (C) Taking loan from abroad
- (D) All of these

96- संतुलित बजट गुणक का क्या मान होता है?

- (A) $\frac{1}{1-c} + \frac{-c}{1-c}$
- (B) $\frac{1-c}{1-c}$
- (C) 1
- (D) इनमें सभी

What is the value of balanced budget multiplier?

- (A) $\frac{1}{1-c} + \frac{-c}{1-c}$
- (B) $\frac{1-c}{1-c}$
- (C) 1
- (D) All of these

97- इनमें से किस माध्यम से खुली अर्थव्यवस्था का जुड़ाव विश्व अर्थव्यवस्था से होता है ?

- (A) निर्गत बाजार
- (B) श्रम बाजार
- (C) वित्तीय बाजार
- (D) इनमें से सभी

Through which of the following means the open economy is connected to the world economy?

- (A) Output market
- (B) Labour market
- (C) Financial market
- (D) All of these

98- इनमें से कौन चालू खाते का घटक नहीं है ?

- (A) निवेश
- (B) वस्तुओं का व्यापार
- (C) सेवाओं का व्यापार
- (D) अंतरण भुगतान

Which of the following is not a component of the current account?

- (A) Investment
- (B) Trade of goods
- (C) Trade of Services
- (D) Transfer payment

99- अदायगी संतुलन में घाटे से अधिकारिक कोषों में क्या परिवर्तन होता है ?

- (A) कमी आती है
- (B) वृद्धि होती है
- (C) अपरिवर्तित रहता है
- (D) इनके मध्य कोई संबंध नहीं है

What changes does deficit in the balance of payments cause in the official reserves?

- (A) It declines
- (B) It increases
- (C) It remains unchanged
- (D) There is no relationship between the two

100- बाजार की शक्तियों जैसे माँग एवं पूर्ति में परिवर्तन के कारण विदेशी विनिमय दर में कमी को क्या कहते हैं ?

- (A) अवमूल्यन
- (B) मूल्यह्रास
- (C) मूल्य में हानि
- (D) इनमें से कोई नहीं

What is the decrease in the foreign exchange rate due to changes in the market forces as such as demand and supply called?

- (A) Devaluation (B) Depreciation
(C) Loos in value (D) None of these

खण्ड – ब / Section-B

लघु उत्तरीय प्रश्न / Short Answer Type Questions

प्रश्न संख्या 1 से 30 तक लघु उत्तरीय प्रश्न है। किन्हीं 15 प्रश्नों के उत्तर दें। प्रत्येक प्रश्न के लिए 2 अंक निर्धारित है। प्रत्येक उत्तर 40–50 शब्दों में लिखें ? $15 \times 2 = 30$

Question Nos 1 to 30 are short Answer Type Questions. Answer any 15 questions. Each question carries 2 marks. Write your answer in 40-50 words. $15 \times 2 = 30$

1- समष्टि अर्थशास्त्र के 4 चरों का नाम लिखें। 2
Write the name of 4 variable of macroeconomics.

2- आर्थिक मंदी के क्या लक्षण हैं ? 2
What are the symptoms of economic depression?

3- खुली अर्थव्यवस्था को परिभाषित करें।
Define open economy.

4- मजदूरी और लाभ में क्या अंतर है ?
What is the difference between wages and profit?

5- उपभोग वस्तु के चार उदाहरण लिखें।
Write examples of four consumption goods.

6- सकल घरेलू उत्पाद से निवल घरेलू उत्पाद कैसे प्राप्त किया जाता है।

How is Net Domestic product derived from Gross Domestic Product?

7- वस्तु विनिमय प्रणाली क्या है ? सोदाहरण लिखें।

What is barter system? write with suitable examples.

8- कागजी मुद्रा के दो गुण लिखें।

Write two properties of paper currency.

9- मुद्रा पूर्ति M_1 की क्या परिभाषा है ?

What is the definition of money supply M_1 ?

10-द्वि- क्षेत्रीय अर्थव्यवस्था में समस्त माँग क्या होगी ?

What would be the aggregate demand in two sector economy?

11-स्वायत व्यय गुणक क्या हैं ?

What is autonomous expenditure multiplier?

12-राजस्व व्यय क्या है ? दो उदाहरण दें।

What is revenue expenditure? give two examples.

13-वस्तु एवं सेवा कर (GST) से आप क्या समझते हैं ?

What do you understand by goods and services tax (GST)?

14-रूपये के अवमूल्यन से आप क्या समझते हैं ?

What do you understand by devaluation of rupee?

15-पूँजी खाता के दो घटकों को लिखें।

Write two components of capital account.

16-बाजार अर्थव्यवस्था के दो गुण लिखें ?

Write two characteristics of market economy.

17-व्यष्टि अर्थशास्त्र किसका अध्ययन करता है ?

What does microeconomics study?

18-कुल उपयोगिता एवं सीमान्त उपयोगिता की परिभाषा लिखें ?

Write the definition of total Utility and Marginal Utility.

19-अनधिमान वक्र क्या है ? चित्रित करें।

What is indifference curve? Draw.

20-स्थानापन्न वस्तुएँ एवं पूरक वस्तुएँ का उदाहरण दें।

Give example of substitute goods and complementary goods.

21-कीमत माँग की लोच की क्या परिभाषा है ?

What is the definition of price elasticity of demand?

22-कुल उत्पाद वक्र चित्रित करें।

Draw total product curve.

23-पैमाने के ह्रासमान प्रतिफल को परिभाषित करें।

Define diminishing returns to scale.

24-कुल लागत की क्या अभिव्यक्ति है ?

What is the expression for total cost?

25-एक ही चित्र में औसत परिवर्ती लागत वक्र एवं औसत लागत वक्र चित्रित करें।

In a single diagram draw average variable cost curve and average cost curve.

26-कुल संप्राप्ति की क्या परिभाषा है ?

What is the definition of total revenue?

27-पूर्ति की कीमत लोच क्या दर्शाती है ?

What does price elasticity of supply show?

28-कीमत स्वीकारक फर्म की औसत संप्राप्ति क्या होती है ।

What is the average revenue of price taker firm?

29-बाजार संतुलन की शर्त लिखें ।

Write the conditions for market equilibrium.

30-एकाधिकार बाजार की दो विशेषताएँ लिखें ।

Write two characteristics of monopoly market.

दीर्घ उत्तरीय प्रश्न / Long Answer Type Questions

प्रश्न संख्या 31 से 38 तक के दीर्घ उत्तरीय प्रश्न हैं। किन्हीं चार प्रश्नों का उत्तर दें। प्रत्येक प्रश्न के लिए 5 अंक निर्धारित हैं। अपना प्रत्येक उत्तर 100–120 शब्दों में दें। $4 \times 5 = 20$

Question Nos 31 to 38 are Long Answer Type. Answer any four questions. Each question carries 5 marks. Answer in 100-120 words each. $4 \times 5 = 20$

31-अनधिमान वक्र के द्वारा उपभोक्ता के संतुलन की सचित्र व्याख्या करें।

Explain consumer equilibrium through indifference curve.

32-मूल्य माँग की लोच परिभाषित करें। माँग वक्रों को चित्रित करें, जिनके माँग की लोच

$|e_D| = 0$, $|e_D| = 1$ एवं $|e_D| = \infty$.

Define price elasticity of demand. Draw demand curves with price elasticity of demand $|e_D| = 0$, $|e_D| = 1$ and $|e_D| = \infty$.

33-पूर्ण प्रतिस्पर्धा फर्म के उत्पादन बंदी बिन्दु की सचित्र व्याख्या करें।

Explain with diagram the Shutdown point of perfect competition firm.

34-उच्चतम निर्धारित कीमत क्या होती है ? उदाहरण के साथ समझाएँ।

What is price ceiling? Explain with suitable examples.

35-' $GDP \equiv$ अर्थव्यवस्था के सभी फर्मों के सकल मूल्यवर्धित का कुल योग।' उदाहरण के साथ व्याख्या करें।

' $GDP \equiv$ Aggregate of value added of all firms of the economy.' Explain with suitable example.

36-व्यावसायिक बैंक के कार्यों का वर्णन करें।

Describe the functions of commercial bank.

37-सिद्ध करें कि उपभोग फलन के सीमान्त उपभोग प्रवृत्ति(MPC) का मान $1 - MPS$ अर्थात् $1 -$ सीमान्त बचत प्रवृत्ति के बराबर होता है।

Prove that the value of Marginal propensity to Consume (MPC) is equal to $1 - MPS$ i.e. $1 -$ Marginal Propensity to save in consumption function.

38-सरकारी घाटे एवं सरकारी ऋण में क्या संबंध है ? व्याख्या कीजिए।

What is the relationship between government deficit and government borrowing? Explain.